

Malaufgaben zur Folge der ___

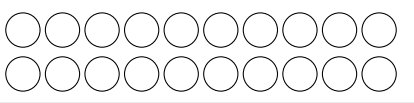
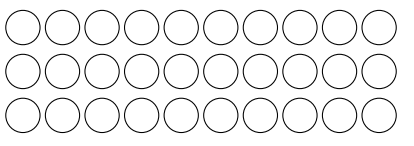



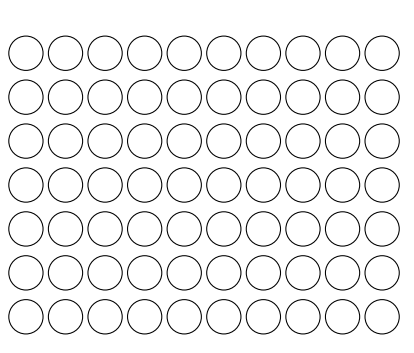
Ergänze die Übersicht!



Beispiel: $1 \cdot _ = _$

Schreibe in die 1. Spalte die nächsten Aufgaben, beachte die Reihenfolge.

In die 2. Spalte malst du das Bild zur Malaufgabe. Färbe die richtigen Kreise.

Du kannst das Ergebnis aus der Zeichnung ablesen, schreibe es in die 1. Spalte.

Aufgabe	Bild
$2 \cdot _ = _$	
$3 \cdot _ = _$	
$4 \cdot _ = _$	
$5 \cdot _ = _$	
$6 \cdot _ = _$	
$7 \cdot _ = _$	

Aufgabe	Bild
$8 \cdot _ = _$	
$9 \cdot _ = _$	
$10 \cdot _ = _$	